


アルゴリズム論特論 (塩田)

2012年4月19日 mod 2 の計算

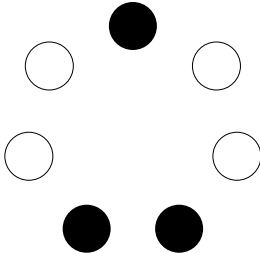
図のようにオセロの駒が円形に並べてある。「隣り合う3個を同時に裏返す」という操作を何回行えば全てを白にすることができるか、その最少手を求めよ。

There are placed some pieces of Othello roundly. If you always have to reverse continuing three pieces simultaneously, how do you make all the pieces to be white?

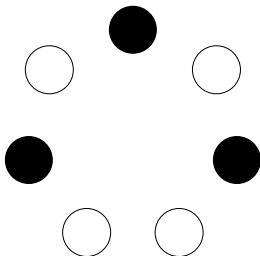
問 1



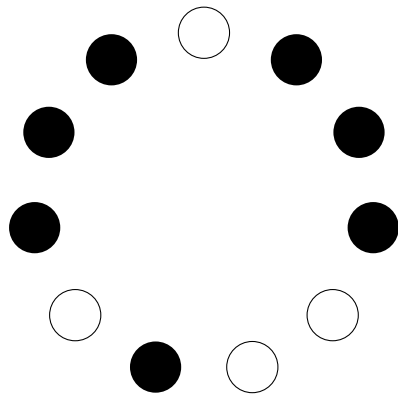
問 2



問 3



問 4



問 5

