

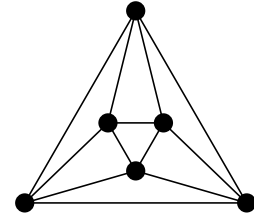
— 学籍番号が偶数の学生用 —

学籍番号

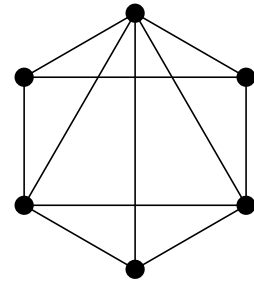
氏名

問題 以下のグラフの彩色数を、理由とともに答えよ。

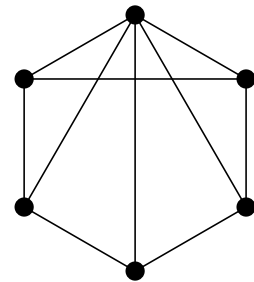
(1) 正八面体グラフ Oct



(2) 右図のグラフ G



(3) 右図のグラフ H



提出方法：スキャンするか写メを撮るなどして、shiota@is.kochi-u.ac.jp 宛に。

教材のページから pdf が download できます。

件名は、組合せとグラフの理論第 11 回の宿題 [自分の学籍番号]

提出期限：7月5日(金) 10:30am