

— 学籍番号が奇数の学生用 —

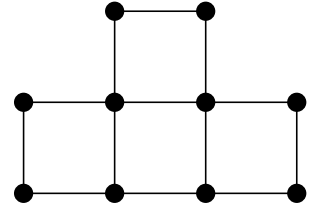
学籍番号

氏名

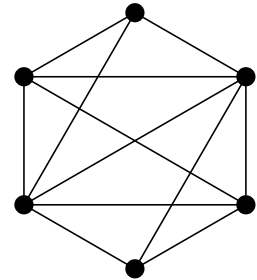
---

問題 以下のグラフの彩色数を、理由とともに答えよ。

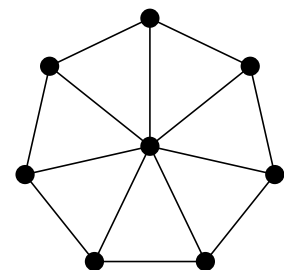
(1) 右図のグラフ  $G$



(2) 右図のグラフ  $H$



(3) 車輪グラフ  $W_8$



提出方法：スキャンするか写メを撮るなどして、[shiota@is.kochi-u.ac.jp](mailto:shiota@is.kochi-u.ac.jp) 宛に。

教材のページから pdf が download できます。

件名は、組合せとグラフの理論第 11 回の宿題 [自分の学籍番号]

提出期限：7月5日(金) 10:30am