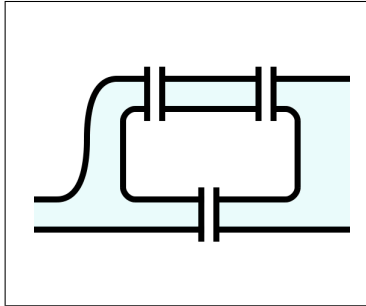


学籍番号

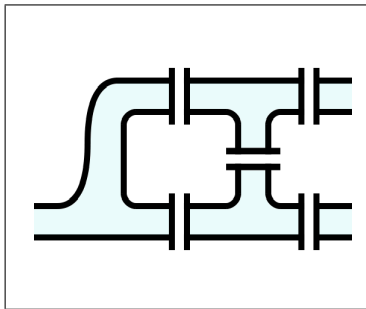
氏名

問題 次のような町で「橋渡し」を考えた場合、それぞれ抽象化して得られるグラフを描き、全ての橋を一度ずつ渡って出発点へ戻れるか否かを判定せよ。

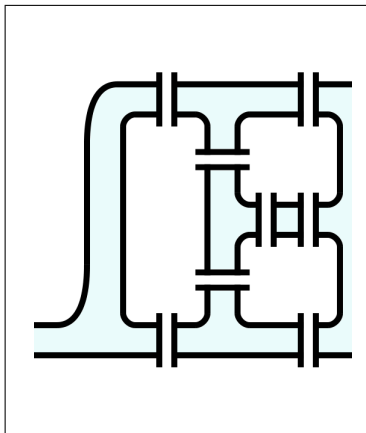
(1)



(2)



(3)



提出方法：スキャンするか写メを撮るなどして、shiota@is.kochi-u.ac.jp 宛に。

教材のページから pdf が download できます。

件名は、組合せとグラフの理論第1回の宿題 [自分の学籍番号]

提出期限：4月21日(金) 10:30am