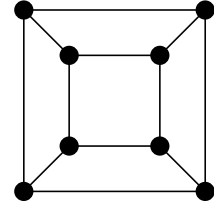


学籍番号

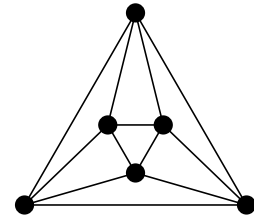
氏名

問題 以下のグラフの彩色数を、理由と共に 答えよ。

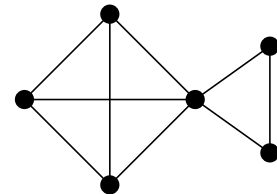
(1) 立方体グラフ Q_3



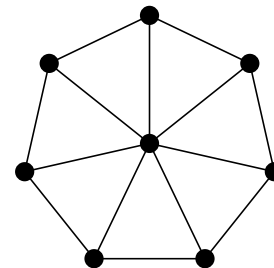
(2) 正八面体グラフ Oct



(3) 右図のグラフ H



(4) 車輪グラフ W_8



提出方法：スキャンするか写メを撮るなどして、shiota@is.kochi-u.ac.jp 宛に (@は小文字)。上手く送れない人はメールで連絡してください。

提出期限：7月8日(金)