

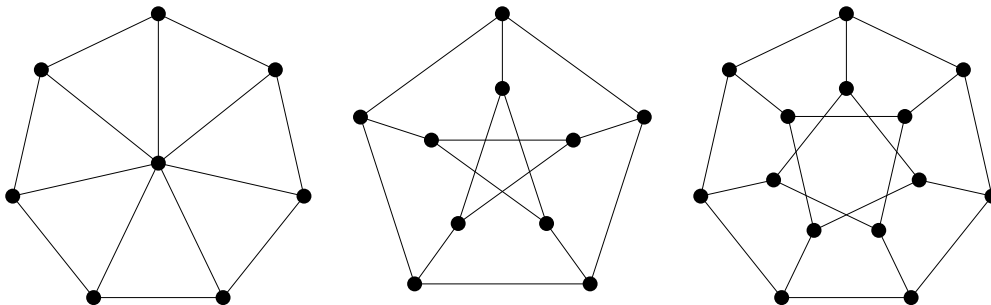
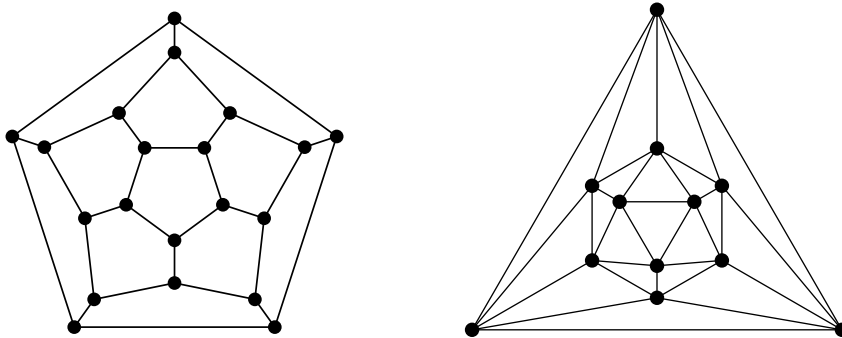
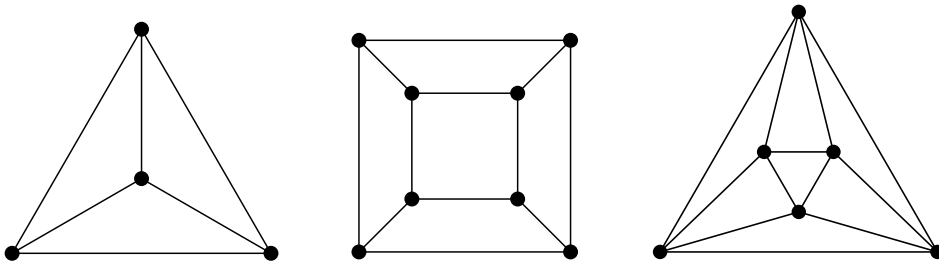
組合せとグラフの理論 (塩田)

2013年7月12日の宿題

学籍番号

氏名

問題 以下のグラフは全て完全マッチングを持つ。それぞれ完全マッチングをひとつ、わかりやすく図に描き入れよ。(できれば色つきで)



提出期限：7月19日 (試験時、または情報科学棟512号室ポストまで)