

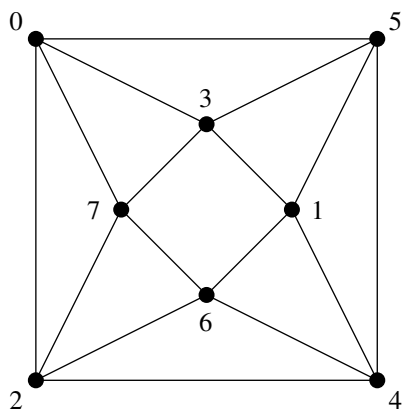
組合せとグラフの理論 (塩田)

2013年5月24日の宿題

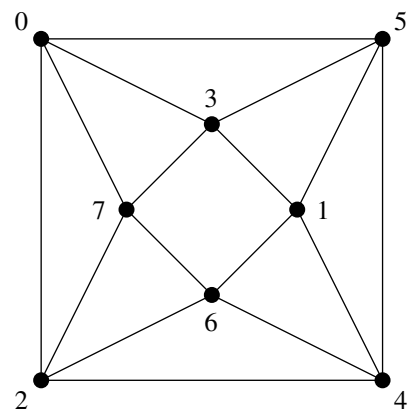
学籍番号

氏名

問題 次のグラフにおいて、0 を根とする幅優先探索木、深さ優先探索木をそれぞれ見やすく図に描き入れよ。

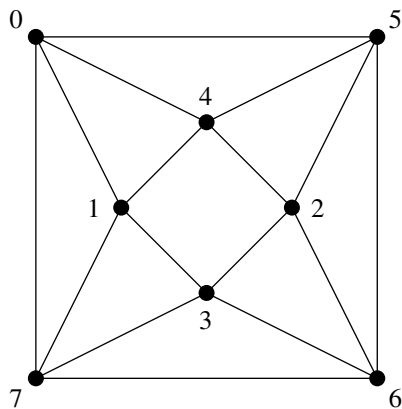


幅優先探索木

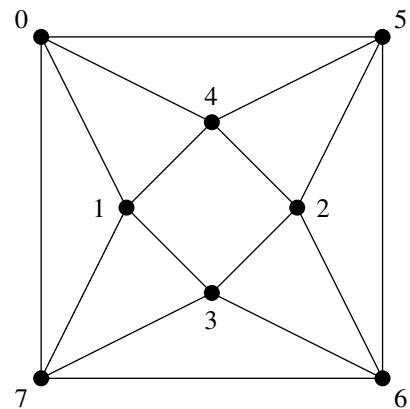


深さ優先探索木

また次のように番号を振った場合はどうか？



幅優先探索木



深さ優先探索木

提出期限：5月31日 (授業時、または情報科学棟512号室ポストまで)