

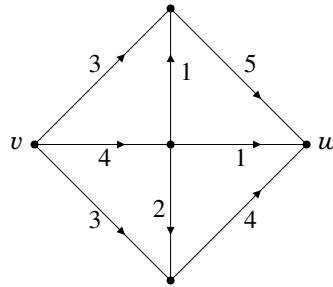
組合せとグラフの理論 (塩田)

2008年7月4日の宿題

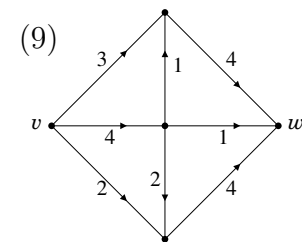
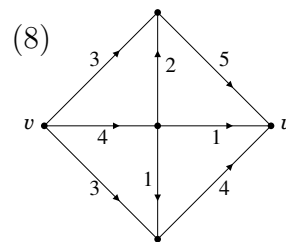
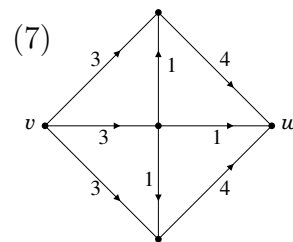
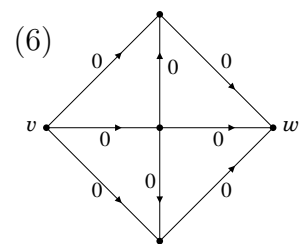
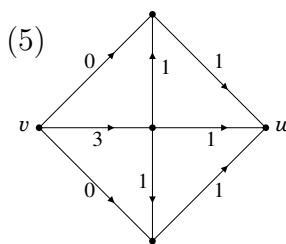
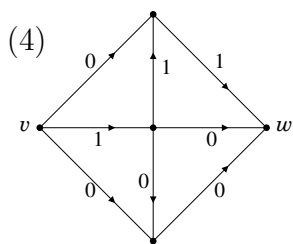
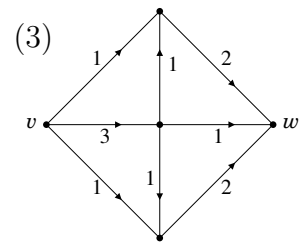
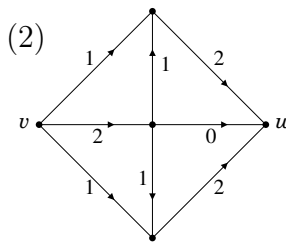
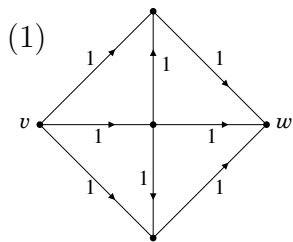
学籍番号

氏名

問題 v を入り口、 w を出口とする次のネットワークを N とする。



次のうち、 N の最大フローになっているものに 、最大フローではないがフローになっているものに をつけよ。



提出期限：7月11日 (授業時、または512号室ポストまで)