

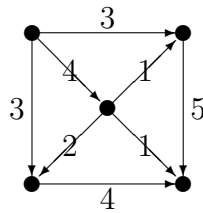
# 組合せとグラフの理論 (塩田)

2006年7月7日の宿題

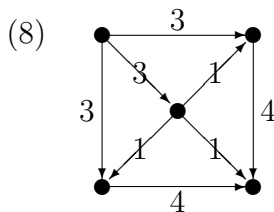
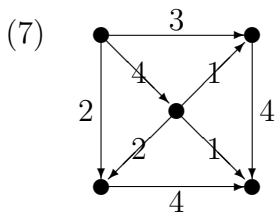
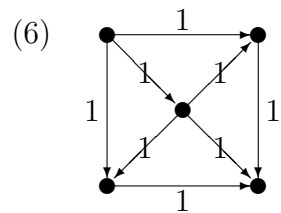
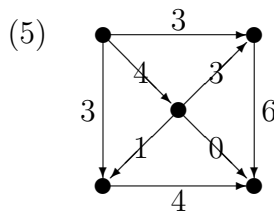
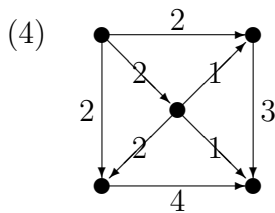
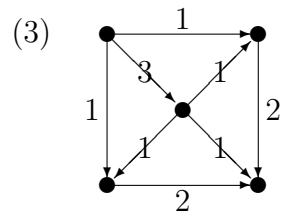
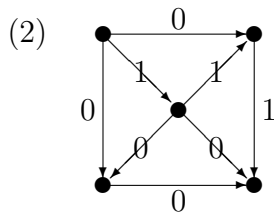
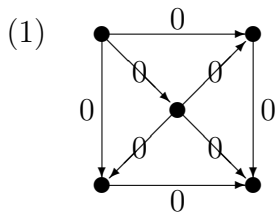
学籍番号

氏名

問題 図のネットワークを  $N$  とする。



次のうち、 $N$  の最大フローになっているものに 、最大フローではないがフローになっているものに  をつけよ。



提出期限：7月14日 (授業時、または512号室ポストまで)