

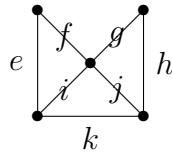
組合せとグラフの理論 (塩田)

2006年5月26日の宿題

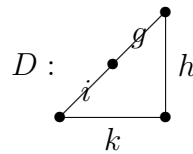
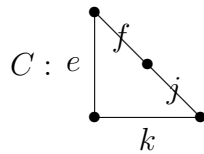
学籍番号

氏名

問題 図のグラフ G の閉路部分空間 $W(G)$ について以下の問に答えよ。



(1) 次の2つの閉路 C, D について $C \oplus D$ を図示せよ。



(2) $W(G)$ の \emptyset 以外の元を書き下せ。(7個ある。)

提出期限：6月2日 (授業時、または512号室ポストまで)